

PLAN DE TRABAJO DE LAS ACTIVIDADES DE REFUERZO Y RECUPERACIÓN DEL PRIMER TRIMESTRE 3º ESO

ACTIVIDADES UNIDAD 1 “EL MEDIO FÍSICO”.

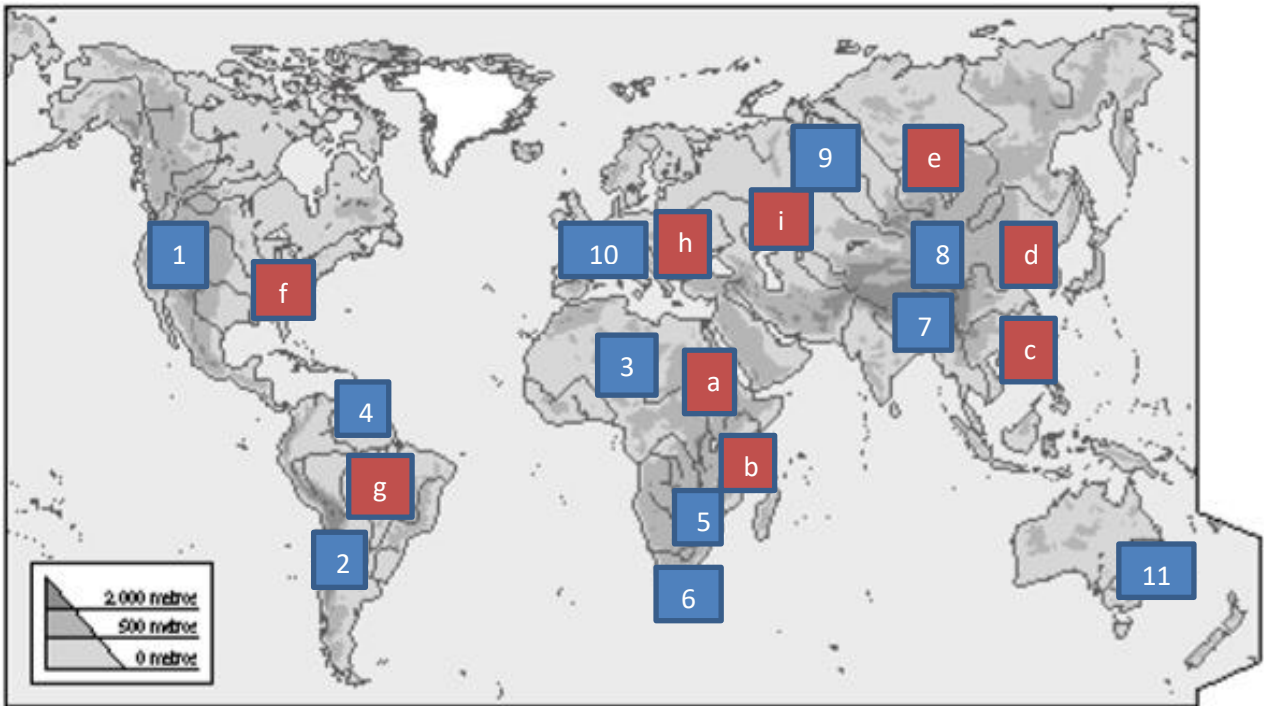
1. Escribe la respuesta correcta:

- | | |
|---|--|
| <p>1 ¿Qué es el relieve?</p> <p><input type="checkbox"/> a. El conjunto de sistemas montañosos de la superficie terrestre.</p> <p><input type="checkbox"/> b. El conjunto de formas o irregularidades que presenta la corteza terrestre.</p> <p><input type="checkbox"/> c. El conjunto de placas de la corteza terrestre.</p> | <p>6 ¿A qué latitud se encuentran las zonas templadas?</p> <p><input type="checkbox"/> a. Entre 40º y 70º latitud norte y sur.</p> <p><input type="checkbox"/> b. Entre 30º y 60º latitud norte y sur.</p> <p><input type="checkbox"/> c. Entre 35º y 65º latitud norte y sur.</p> |
| <p>2 ¿Qué elemento del relieve es una llanura elevada?</p> <p><input type="checkbox"/> a. Sierra.</p> <p><input type="checkbox"/> b. Llanura.</p> <p><input type="checkbox"/> c. Meseta.</p> | <p>7 ¿Qué bosque es típico del clima oceánico?</p> <p><input type="checkbox"/> a. Caducifolio.</p> <p><input type="checkbox"/> b. Taiga.</p> <p><input type="checkbox"/> c. Perennifolio.</p> |
| <p>3 ¿Cuál es el pico más alto del planeta y en qué continente se encuentra?</p> <p><input type="checkbox"/> a. El Everest, en Asia.</p> <p><input type="checkbox"/> b. El Everest, en África.</p> <p><input type="checkbox"/> c. El Teide, en Asia.</p> | <p>8 ¿Cuándo se formaron las unidades de relieve españolas?</p> <p><input type="checkbox"/> a. Hace unos 300 millones de años.</p> <p><input type="checkbox"/> b. Entre 65 y 1,6 millones de años.</p> <p><input type="checkbox"/> c. Entre 30 y 1,6 millones de años.</p> |
| <p>4 ¿Qué porcentaje de las aguas del planeta son aguas continentales?</p> <p><input type="checkbox"/> a. 9%.</p> <p><input type="checkbox"/> b. 6%.</p> <p><input type="checkbox"/> c. 3%.</p> | <p>9 Los ríos españoles de la vertiente atlántica, exceptuando los gallegos, son:</p> <p><input type="checkbox"/> a. Largos, poco caudalosos y poco regulares.</p> <p><input type="checkbox"/> b. Largos, caudalosos y bastante regulares.</p> <p><input type="checkbox"/> c. Largos, caudalosos y muy irregulares.</p> |
| <p>5 ¿Cuál es el río más largo del mundo y en qué continente se encuentra?</p> <p><input type="checkbox"/> a. El río Nilo, en África.</p> <p><input type="checkbox"/> b. El río Amazonas, en América.</p> <p><input type="checkbox"/> c. El río Nilo, en América.</p> | <p>10 ¿Qué tres tipos de clima mediterráneo se dan en España?</p> <p><input type="checkbox"/> a. De costa, interior y de montaña.</p> <p><input type="checkbox"/> b. Oceánico, interior y continentalizado.</p> <p><input type="checkbox"/> c. De litoral, interior y seco.</p> |

2. Escribe cuáles son los dos procesos básicos de formación del relieve y explica con qué se relacionan.

3. Pon tres ejemplos de relieve continental y tres de relieve submarino y defínelos.

4. Sitúa el número o la letra de los siguientes elementos del relieve o aguas en su lugar correspondiente.

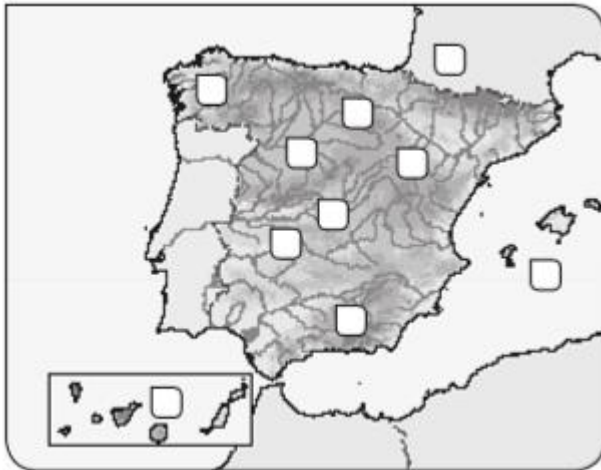


Desierto del Sahara -Tibet - lago Baikal - montes Drankensberg - lago Victoria – Andes - Cabo de Buena Esperanza – Montañas Rocosas – Mato Grosso – Himalaya – Montes Urales – Pirineos – Gran Cordillera Divisoria – río Yangtsé – río Nilo – río Amarillo – río Danubio – río Amazonas – río Mississippi – río Volga.

5. Describe qué produce que las aguas marinas estén en continuo movimiento.
6. ¿Cuántas zonas climáticas hay en la Tierra?
7. Completa una tabla como la siguiente:

Climas cálidos	Climas templados	Climas fríos
Clima: Localización:	Clima: Localización:	Clima: Localización:
Clima: Localización:	Clima: Localización:	Clima: Localización:
Clima: Localización:	Clima: Localización:	

8. ¿Qué cuatro tipos de rocas se diferencian en nuestro país? Pon un ejemplo de dónde abunda.
9. Enlaza los siguientes números del mapa con el correspondiente topónimo de España.



- Islas Canarias
- Islas Baleares
- Pirineos
- Montes de Toledo
- Sistema Ibérico
- Meseta Central
- Macizo Galaico
- Sistemas Béticos
- Sistema Central
- Depresión del Ebro

10. Completa la tabla sobre los ríos españoles.

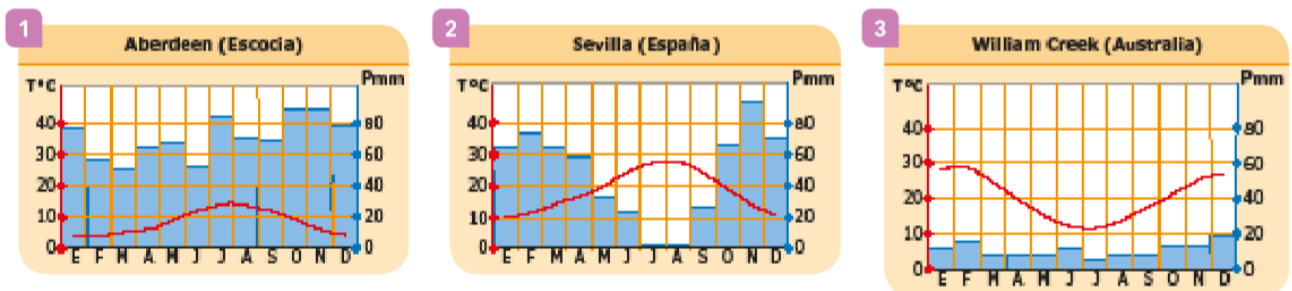
Vertiente cantábrica	Vertiente atlántica	Vertiente mediterránea
Característica:	Característica:	Característica:
Ejemplo:	Ejemplo:	Ejemplo:

11. Explica cuál es el clima predominante en España y sus tres variantes.

12. Explica la diferencia entre:

- Cordillera y dorsal oceánica
- Llanura y meseta
- Golfo y cabo

13. Observa estos climogramas y señala a qué tipo de clima corresponden. Razona tu respuesta.



14. Explica cuándo y cómo se formaron el Sistema Ibérico, la depresión del Guadalquivir y las islas Canarias.

15. Escribe las unidades de relieve que atraviesa la línea del siguiente mapa.



ACTIVIDADES UNIDAD 2 “LA ORGANIZACIÓN POLÍTICA DEL MUNDO”.

1. Completa los huecos con la palabra correcta.

Constitución – dictadura – monarquías – sufragio universal – laicos –

Confesionales – división de poderes – ejecutivo – judicial – legislativo - federal

- El Gobierno tiene el poder.....
- Los Estados en los que el jefe del Estado es un rey son.....
- En una democracia se da la.....
- Unase produce cuando el poder reside en grupos minoritarios.
- El Parlamento tiene el poder.....
- El Estado.....es el que está constituido por varios Estados bajo una misma Constitución.
- Los Estadosson aquellos en los que existe la separación entre la Iglesia y el Estado.
-quiere decir que todos los ciudadanos mayores de edad pueden votar para elegir a sus representantes.
- Los Estados en los que existe una religión oficial se llaman.....
- Laes la ley suprema de obligado cumplimiento para todos los ciudadanos.

- Los jueces forman el poder.....
- 2. Elige la definición de Estado que consideres correcta.
 - Unidad política y administrativa superior que rige un territorio.
 - Conjunto de personas con una misma lengua, cultura e historia.
 - Territorio no soberano.
- 3. Contesta las siguientes cuestiones.
 - ¿Qué funciones cumple un Estado?
 - ¿Todos los Estados desempeñan las mismas funciones?
- 4. Completa la frase con el término apropiado.

Centralizado - descentralizado

- El Estado.....es aquel con organización administrativa única.
- 5. Elige la respuesta correcta.

- La Comunidad Económica Europea (CEE) se constituyó en el año...
 - 1957.
 - 1992.
 - 2004.
- ¿Cuál de estos países no firmó los Tratados de Roma, por los que se constituyó la CEE?
 - Francia.
 - Italia.
 - España.
- En 1992, la Comunidad Europea se convirtió en la Unión Europea por el Tratado de...
 - París.
 - Maastricht.
 - La Haya.
- España ingresó en la UE en el año...
 - 1957.
 - 1986.
 - 2004.
- La capital política de la UE se halla en...
 - París.
 - Luxemburgo.
 - Bruselas.
- La mayor ampliación de la UE, que afectó a diez países, se produjo en...
 - 1986.
 - 1995.
 - 2004.
- En la actualidad, la UE está formada por...
 - 15 países.
 - 28 países.
 - 22 países.
- ¿Cuál de estos países ha ingresado en la UE en 2007?
 - Grecia.
 - Bulgaria.
 - España.

- 6. Elabora el mapa político de España realizando las actividades que se plantean.
 - Completa el mapa con el nombre de las capitales de Comunidad Autónoma.
 - Escribe el nombre de las provincias y de cada Comunidad Autónoma (utiliza colores diferentes).

- Colorea las provincias de una Comunidad Autónoma del mismo color.



ACTIVIDADES DE CONTINUIDAD TERCER TRIMESTRE

ACTIVIDADES UNIDAD 5 “EL SECTOR PRIMARIO”.

1. Realiza un PowerPoint del punto 7: La pesca.
2. Lee el siguiente artículo y contesta a las preguntas.
https://www.nationalgeographic.com.es/naturaleza/japon-vuelve-a-cazar-ballenas-tras-30-anos-prohibicion_14492/1
 - ¿En qué año se acordó una moratoria internacional para la caza de las ballenas? ¿Quién?
 - ¿Qué países eran las principales potencias del sector?
 - ¿Cuántos ejemplares de la especie de ballena aliblanca se ha propuesto pescar Japón?
 - ¿Cuándo registró Japón un mayor consumo de carne de ballena?
3. Realiza un PowerPoint del punto 11: Los paisajes agrarios españoles.
4. Realiza las actividades 26, 27, 28, 29 30 y 31 del libro (página 158).